

**Môn: Toán 3**

**Bài 47: LÀM QUEN VỚI SỐ LA MÃ (TIẾT 2)**



*Giáo viên: Trịnh Thị Thương*  
*Lớp: 3C*



# TRÒ CHƠI: Ai nhanh ai đúng



A

Đồng hồ  
ở hình A:  
1 giờ.



B

Đồng hồ  
ở hình B:  
5 giờ.



C

Đồng hồ  
ở hình C:  
9 giờ.



D

Đồng hồ  
ở hình D:  
10 giờ.

Thứ ba ngày 4 tháng 2 năm 2025

# Toán

**Bài 47: LÀM QUEN VỚI SỐ LA MÃ (TIẾT 2)**

**1** Dùng que tính có thể xếp thành các số La Mã như hình bên:

a) Dùng 5 que tính hãy xếp thành số 8, số 13 bằng chữ số La Mã.


b) Để xếp được ba số 9 bằng chữ số La Mã thì dùng hết mấy que tính?



a) Có thể xếp như sau:



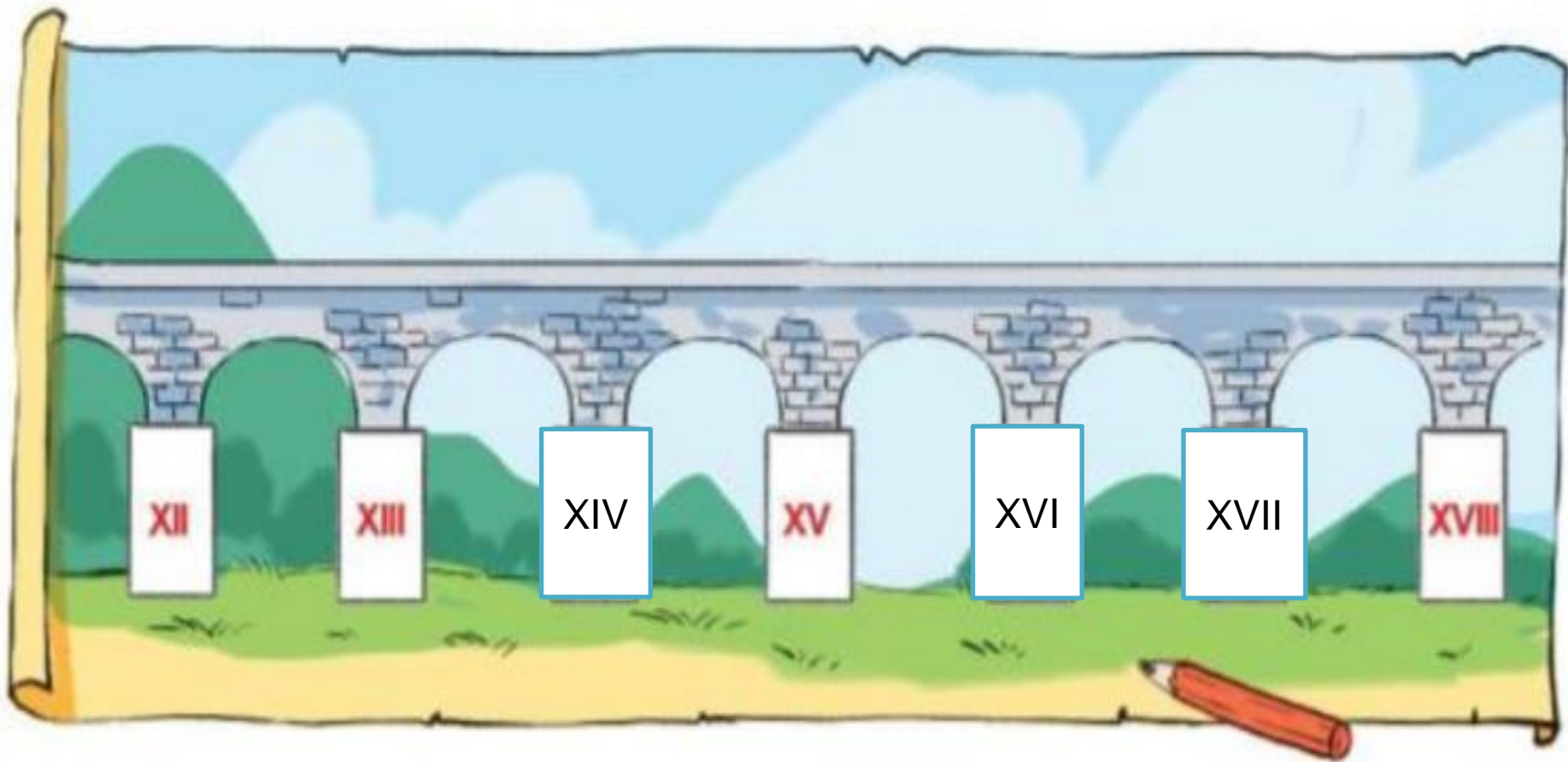
b) Ta xếp que tính để được ba số 9 bằng chữ số La Mã như sau:



Ta cần 3 que diêm để xếp được một số 9

Vậy ba số 9 thì cần số que diêm là  $3 \times 3 = 9$  (que diêm)

2 a) Tìm số La Mã thích hợp.



b) Sắp xếp các số XIII; XVII; XII; XVIII theo thứ tự từ bé đến.


**XII; XIII; XVII; XVIII**

**3** Chọn đồng hồ điện tử thích hợp với đồng hồ mặt trời.

Bóng của kim chỉ vào II, lúc đó là 14 giờ.



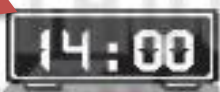
A



D



B



E



C



G


4 Tìm đường đi cho chú linh dương đến hồ uống nước theo thứ tự các số La Mã từ I đến XX.



I	II	XII	XIII	XX	XV	XVI	XVIII	XX
XI	III	IV	XIV	XIX	XVII	XII	XVI	XIX
XX	X	V	VI	X	XIV	VII	XX	VII
II	IV	XIII	VII	IV	III	VIII	XIX	XX
X	XV	X	VIII	IX	X	V	XVII	III
VI	IX	XVI	XII	I	XI	II	XVII	X
V	IV	V	VI	V	XII	I	XVI	II
I	III	II	VII	X	XIII	XIV	XV	XX



# VẬN DỤNG



Hôm nay bạn đã học được nội dung gì ?

